

【1】次の記事を読み、あとの問いに答えなさい。

〇〇新聞 2024年（令和6年）1月22日 月曜日

X市 コミュニティバス

本年度で廃止

X市が中心市街地で運行しているコミュニティバス3路線を本年度末で廃止する方針を固めたことが19日、関係者への取材で分かった。X市は年間30億円に上る①財政赤字に悩まされている。昨年、財政再建を公約に掲げ当選した②Y市長は、就任早々に「財政再建プログラム」を立ち上げ、その一環として、コミュニティバスの路線廃止を検討していた。X市は③人口減少が続き、バスの利用低迷に加え、車両の老朽化などから総合的に判断した。今後、市議会や住民への説明を経て、廃止が決定される見込みである。一方、住民からは④さまざまな声があがっている。

以下、住民の声を一部掲載する。

Aさん「車の運転が難しいため、バスは毎日の生活に欠かせない。廃止ありきではなく、公聴会を開くなど、私たちが直接意見を述べる場を設けてほしい。」

Bさん「普段から自転車を利用しており、路線廃止となっても特に大きな問題はない。これを機に、自転車シェアサービスなどを行う⑤企業活動への支援を検討してはどうか。」

Cさん「現在はバスに頼らず日常生活を送れているが、今後、バスの利用を必要とすることがあるかもしれない。現在必要としている人の立場にたち、この問題を考える必要があると思う。」

Dさん「近年の⑥不景気により、家計を取り巻く状況は厳しい。これ以上の悪化を防ぐため、市はいち早く支援を行うべきだ。多数の人がそうした考えのもと、赤字削減のため、路線の廃止は仕方ないと考えているので早急に決断すべきだと思う。」

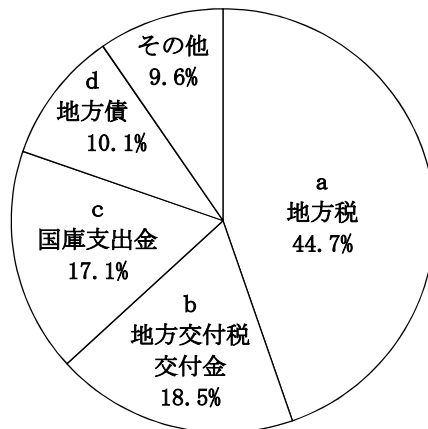
市方針
財政難で
経費削減

問 下線部①について、地方公共団体の歳入は、自主財源と依存財源に分かれます。下のグラフのa～dのうち、依存財源にあたるものを、次のア～エから選びなさい。ただし、「その他」は考えないものとします。

1

ア. a イ. bとc ウ. bとcとd エ. d

地方財政の歳入
2020年度 91兆7473億円



（「2020/21年版 日本国勢図会」より）

問 下線部②について、市町村長に関する内容として**誤っているもの**を、次のア～エから選びなさい。

2

- ア. 住民による直接選挙によって選出される。 イ. 被選挙権は25歳以上で、任期は4年である。
ウ. 条例の制定や改廃、予算の議決などを行う。 エ. 住民による市町村長の解職請求をリコールという。

問 下線部③について、次の文の（ a ）～（ c ）に入る語句の組み合わせとして正しいものを、下のア～エから選びなさい。

3

日本の総人口は年々減少しています。そのなかで、急速に少子高齢化が進み、社会保障のための費用が年々（ a ）しています。今後高齢者の数に比べて現役世代の数は（ b ）していきますから、現役世代に求められる負担は（ c ）すると考えられ、それを支えるだけの経済力が必要になります。

- ア. a－減少 b－増加 c－減少 イ. a－減少 b－増加 c－増加
ウ. a－増加 b－減少 c－増加 エ. a－増加 b－減少 c－減少

問 下線部④について、人々が合意するための判断基準として、「効率」と「公正」という考え方があります。記事中のAさん、Bさん、Cさん、Dさんの4名のなかで、「公正」の考え方に基づき意見している人の組み合わせとして正しいものを、次のア～カから選びなさい。

4

- ア. AさんとBさん イ. AさんとCさん ウ. AさんとDさん
エ. BさんとCさん オ. BさんとDさん カ. CさんとDさん

問 下線部⑤に関する内容として**誤っているもの**を、次のア～エから選びなさい。

5

- ア. 企業は利益をあげるだけでなく、企業活動を通じて市民や地域、社会に対し積極的に貢献すべきとする考えを企業の社会的責任（CSR）という。
イ. 企業間の自由競争を促す目的で、生産や販売の集中を制限するために、独占禁止法が制定され、経済産業省がその運用を行っている。
ウ. 株式会社は、資本を小口の株式に分けることで、大勢の人から多額の資金を集めることができる。そのため、株式会社は日本の大企業の中で最も数の多い形態となっている。
エ. これまでの日本の労働環境を改善するために、働き方改革関連法が制定され、長時間労働の削減や同一労働同一賃金の実現をはかるなど、これまでの企業風土を改善する取り組みが進められている。

問 下線部⑥について、不景気のときの消費、物価、生産の動きをまとめたものとして正しいものを、次のア～エから選びなさい。

6

- ア.

消費	増加↑
物価	下落↓
生産	増加↑

 イ.

消費	増加↑
物価	上昇↑
生産	減少↓

 ウ.

消費	減少↓
物価	下落↓
生産	減少↓

 エ.

消費	減少↓
物価	上昇↑
生産	増加↑

【2】 基本的人権についてまとめた次のノートを見て、あとの問いに答えなさい。

(1) 人権思想の誕生

- ・人権…人間が生まれながらに持つ権利
- ・①アメリカ独立宣言やフランス人権宣言で主張 → その後、各国の憲法の柱となる

(2) 日本国憲法の人権保障

- ・基本的人権の尊重…②日本国憲法の三つの基本原則の一つ
他二つ…国民主権, ③平和主義

〈種類〉

- ・④自由権…精神の自由, 身体の自由, 経済活動の自由
- ・平等権…個人の尊重, 法の下での平等
- ・社会権…生存権, 教育を受ける権利, 勤労の権利, 労働基本権
- ・参政権, 請求権, 新しい人権

(3) 国際的な人権保障

- ・世界人権宣言…⑤国際連合総会で採択
- ・さまざまな人権条約の採択…人種差別撤廃条約, 子どもの権利条約

問 下線部①について、その内容として正しいものを、次のア～エから選びなさい。

7

- ア. 人が人間らしい生活を営む権利を世界で初めて保障した。
- イ. 貴族たちが専制政治を行う国王の権力を制限するために発表した。
- ウ. 「人民の、人民による、人民のための政治」という表現で民主主義の原則をあらわした。
- エ. すべての人は平等につくられ、一定のうばいがたい天賦の権利を付与されていると主張した。

問 下線部②に関して述べた文として誤っているものを、次のア～エから選びなさい。

8

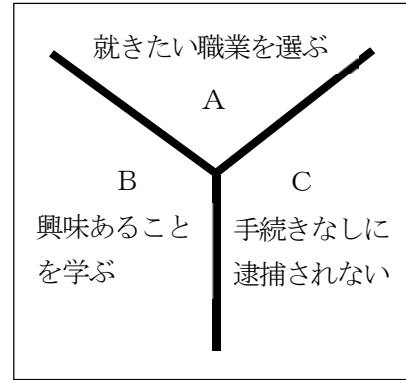
- ア. 立憲主義をとる多くの国々と同様に、三権分立という考え方が採用されている。
- イ. 憲法は国の基本法であると同時に、法のなかで最も高い地位にある最高法規である。
- ウ. 最高裁判所は「憲法の番人」といわれ、違憲審査の最終決定権を持っている。
- エ. 憲法の改正手続きは、天皇が発議し、国民投票で過半数の賛成を必要としている。

問 下線部③について、国内外の平和を実現するにあたり、日本政府や国会の方針として誤っているものを、次のア～エから選びなさい。

9

- ア. 国際貢献のために、自衛隊は国連の平和維持活動（PKO）へ参加することができる。
- イ. 日本の政府は、憲法上、集団的自衛権はいかなる場合においても使えないとしている。
- ウ. アメリカとの間で日米安全保障条約を結び、アメリカ軍の国内駐留を認め、基地を提供している。
- エ. 日本では、「核兵器をもたず、つくらず、もちこませず」の非核三原則が国会で決議されている。

問 下線部④について、自由権は大きく三つに分けられます。右のYチャートは、それらをA, B, Cに分類し、その具体的な内容について例示したものです。A~Cの分類に適する、その他の内容の組み合わせとして正しいものを、次のア~カから選びなさい。 10



- | | | |
|-----------------|--------------|--------------|
| ア. A-苦役からの自由 | B-住みたいところに住む | C-好きな宗教を信仰する |
| イ. A-苦役からの自由 | B-好きな宗教を信仰する | C-住みたいところに住む |
| ウ. A-好きな宗教を信仰する | B-苦役からの自由 | C-住みたいところに住む |
| エ. A-好きな宗教を信仰する | B-住みたいところに住む | C-苦役からの自由 |
| オ. A-住みたいところに住む | B-好きな宗教を信仰する | C-苦役からの自由 |
| カ. A-住みたいところに住む | B-苦役からの自由 | C-好きな宗教を信仰する |

問 下線部⑤について、右の図I, IIは、国際連合が2015年に採択した「持続可能な開発目標」(SDGs)のうちの二つです。I, IIに関する日本の動きについて述べた次の文の正誤の組み合わせとして正しいものを、下のア~エから選びなさい。

11



I



II

- I - 男女共同参画社会基本法が制定されており、社会のあらゆる場面で、男女がともに責任を担い協力する社会が目指されている。
- II - 東日本大震災をきっかけに、日本の発電量の約8割が二酸化炭素を排出しない再生可能エネルギーによるものとなっている。

- ア. I-正 II-正 イ. I-正 II-誤 ウ. I-誤 II-正 エ. I-誤 II-誤

【3】りゅうさんは、諸外国との交流が日本に及ぼした影響について、歴史の授業で学習したことを、カードにまとめました。I～IVのカードを読み、あとの問いに答えなさい。

I これは、5世紀ごろに中国や朝鮮半島から移住してきた渡来人が技術を伝え、製作されたものの写真です。渡来人は、他にも鉄器の製造や機織りといった多くの技術のほか、儒教や①仏教の知識ももたらしました。



II これは、日宋貿易で流入した通貨の写真です。この貿易によってもたらされた通貨をはじめとする品々は、平氏の経済的な基盤となりました。その後、平氏一門は武士として初めて②政治の実権をにぎりました。



III これは、③南蛮貿易の際に、日本に伝えられた武器の写真です。この武器を効果的に使用し、天下統一を進めたのが④織田信長です。信長は、安土に壮大な城を築き、天下統一の拠点にしました。



IV これは、軍艦を率いて浦賀に来航したペリーの写真です。ペリー来航後、開国した日本国内では、政治や経済の面で、⑤さまざまな出来事が起きました。



問 Iのカードの写真に該当するものとして正しいものを、次のア～オから選びなさい。

12

ア. 銅鐸 イ. 須恵器 ウ. 弥生土器 エ. 埴輪 オ. 縄文土器

問 次のA～Cの各文は、下線部①が日本の政治や文化に与えた影響について述べたものです。A～Cを年代の古い順に並べたものとして正しいものを、下のア～カから選びなさい。

13

- A. 阿弥陀仏の建てた極楽浄土をこの世に再現しようとし、平等院鳳凰堂がつくられた。
- B. 仏教や儒教の考え方を取り入れ、役人の心得を示した十七条の憲法が定められた。
- C. 仏教の力で国を守ろうとし、都には東大寺、地方には国分寺や国分尼寺がつけられた。

ア. A→B→C イ. A→C→B ウ. B→A→C
 エ. B→C→A オ. C→A→B カ. C→B→A

問 下線部②について、次の文の（ a ）～（ c ）に入る語句の組み合わせとして正しいものを、下のア～カから選びなさい。 14

平清盛は、朝廷の最高の役職である（ a ）となり、平氏政権を確立した。瀬戸内海の航路や現在の（ b ）港である大輪田泊を整備し、貿易の拡大にも努めた。権力を強めた清盛は、朝廷の政治を思うままに動かしはじめたため、貴族や寺社は反発し、武士の多くが平氏政権に不満を持ちはじめた。その後、源平の争いが起こり、平氏は（ c ）で滅ぼされた。

- ア. a－太政大臣 b－神戸 c－壇ノ浦 イ. a－太政大臣 b－神戸 c－鎌倉
 ウ. a－太政大臣 b－博多 c－壇ノ浦 エ. a－征夷大將軍 b－博多 c－鎌倉
 オ. a－征夷大將軍 b－博多 c－壇ノ浦 カ. a－征夷大將軍 b－神戸 c－鎌倉

問 下線部③について、日本の輸出品として正しいものを、次のア～エから選びなさい。 15

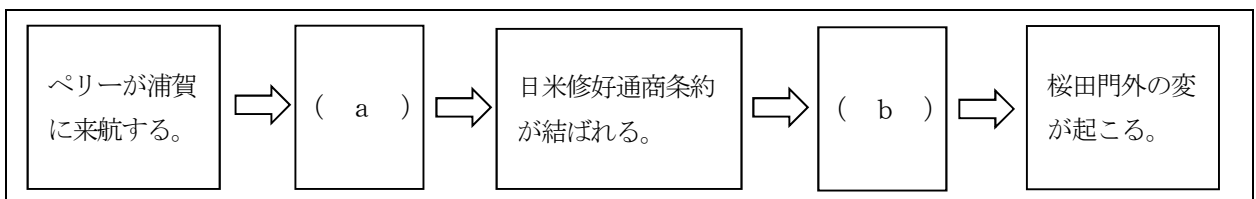
- ア. 銀 イ. ガラス製品 ウ. 生糸 エ. 火薬

問 下線部④について述べた次の文A、Bの正誤の組み合わせとして正しいものを、下のア～エから選びなさい。 16

- A. 抵抗する仏教勢力に対して厳しい態度で臨み、比叡山延暦寺を焼き討ちにした。
 B. 商工業の発展をうながすため、楽市・楽座を実施し、全国に関所を設けた。

- ア. A－正 B－正 イ. A－正 B－誤 ウ. A－誤 B－正 エ. A－誤 B－誤

問 次の図は、下線部⑤の出来事を年代順に並べたものです。図中の（ a ）、（ b ）にあてはまる出来事として正しいものを、下のア～オからそれぞれ選びなさい。 a－17・b－18



- ア. 天保の改革が行われる。 イ. 大塩の乱が起こる。 ウ. 安政の大獄が起こる。
 エ. 日米和親条約が結ばれる。 オ. 異国船打払令が出される。

【4】20世紀は、二度の世界大戦が起きるなど激動の時代であり、世界における日本の立場も大きく変化しました。次の略年表を見て、あとの問いに答えなさい。

年	主な出来事
1914	① <u>第一次世界大戦</u> が起こる。
1917	ロシア革命が起こる。 ⇕ a
1919	② <u>パリ講和会議</u> が開かれる。 ⇕ b
1929	③ <u>世界恐慌</u> が起こる。 ⇕ c
1939	④ <u>第二次世界大戦</u> が起こる。 ⇕ d
1945	日本がポツダム宣言を受諾する。

問 下線部①について、次のA～Cの各文のうち、その当時やその後の日本の状況を説明したものとして正しいものを、下のア～カから選びなさい。 19

- A. イギリスと同盟を結んでいたため、連合国側で参戦した。
- B. 民主主義の風潮が広がり、美濃部達吉は民本主義を唱えた。
- C. 大戦景気によって、成金とよばれる人々があらわれた。

ア. A イ. B ウ. C エ. AとB オ. BとC カ. AとC

問 下線部②について、次の文の（ ）に入る語句として正しいものを、下のア～エから選びなさい。

20

中国は二十一か条の要求の取り消しを求めていたが、パリ講和会議においてその訴えが退けられたため、中国国内では不満が爆発し、（ ）が起こった。

ア. 五・四運動 イ. 日比谷焼き討ち事件 ウ. 義和団事件 エ. 三・一独立運動

問 下線部③について、その後の各国の様子について述べた文として**誤っているもの**を、次のア～エから選びなさい。 21

- ア. イギリスでは、植民地との貿易を拡大し、他国の商品を締め出すブロック経済が行われた。
- イ. アメリカでは、ローズベルト大統領の下、ニューディール政策が行われた。
- ウ. ソ連では、五年計画が失敗に終わり、重工業を中心に生産が落ち込んだ。
- エ. ドイツでは、公共事業をおこして失業者を減らしたナチ党が国民の支持を集めた。

問 下線部④について、この戦争中に日本はソ連と日ソ中立条約を結びました。この条約を結んだ理由として正しいものを、次のア～エから選びなさい。 22

- ア. ドイツ、イタリアとの三国同盟が崩れ、国際的に孤立していたため。
- イ. アジアから欧米諸国を追い出し、ともに大東亜共栄圏を建設しようと考えたため。
- ウ. 北方の安全を確保し、インドシナ南部に進出し、石油などの資源を求めるため。
- エ. アメリカとの戦争が始まっており、戦いを有利に進めようと考えたため。

問 年表中の a～d の期間とそれぞれの期間に日本で起きた出来事の組み合わせとして誤っているものを、次のア～エから選びなさい。 23

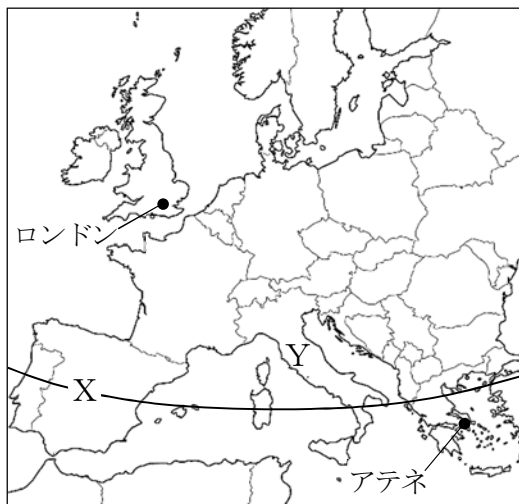
- ア. a－シベリア出兵の影響により、米騒動が起きた。
- イ. b－共産主義思想の広がりを防ぐため、治安維持法が制定された。
- ウ. c－海軍の青年将校らにより五・一五事件が引き起こされた。
- エ. d－国際連盟を脱退し、軍部主導の政治が展開された。

【5】今日では、世界中で行われるさまざまなスポーツイベントを、テレビやインターネットを通じ、リアルタイムで視聴することができます。今年の7月から8月にかけては、フランスのパリで夏季オリンピックが開かれます。2000年以降に夏季オリンピックが開催された都市についてまとめた年表と、それらの都市の位置を示した地図①～④を見て、あとの問いに答えなさい。なお、地図①～④の縮尺はそれぞれ異なります。

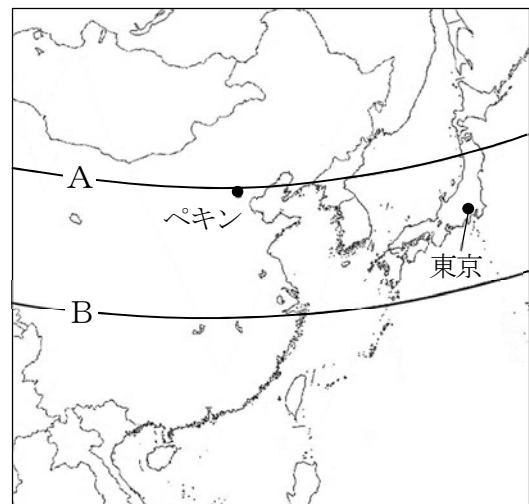
〈年表〉

開催年	開催都市 (国)	備考
2000年	シドニー (オーストラリア)	44年ぶりとなる南半球での開催
2004年	アテネ (ギリシャ)	第1回大会以来108年ぶり二度目の開催
2008年	ペキン (中国)	2022年に冬季オリンピックも開催
2012年	ロンドン (イギリス)	最多となる三度目の夏季オリンピック開催
2016年	リオデジャネイロ (ブラジル)	冬に開催された初めての夏季オリンピック
2021年	東京 (日本)	新型コロナウイルス感染拡大により一年間延期

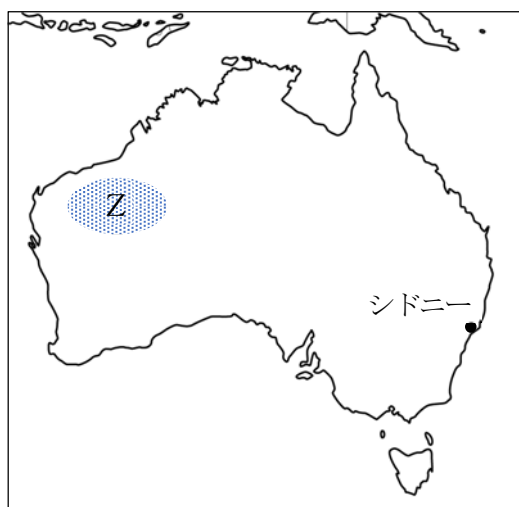
〈地図〉



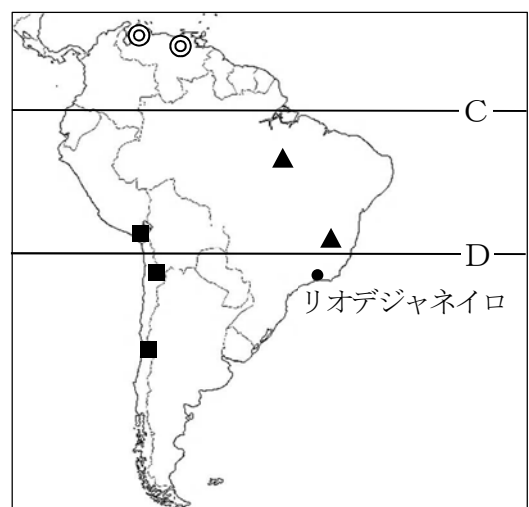
①



②



③



④

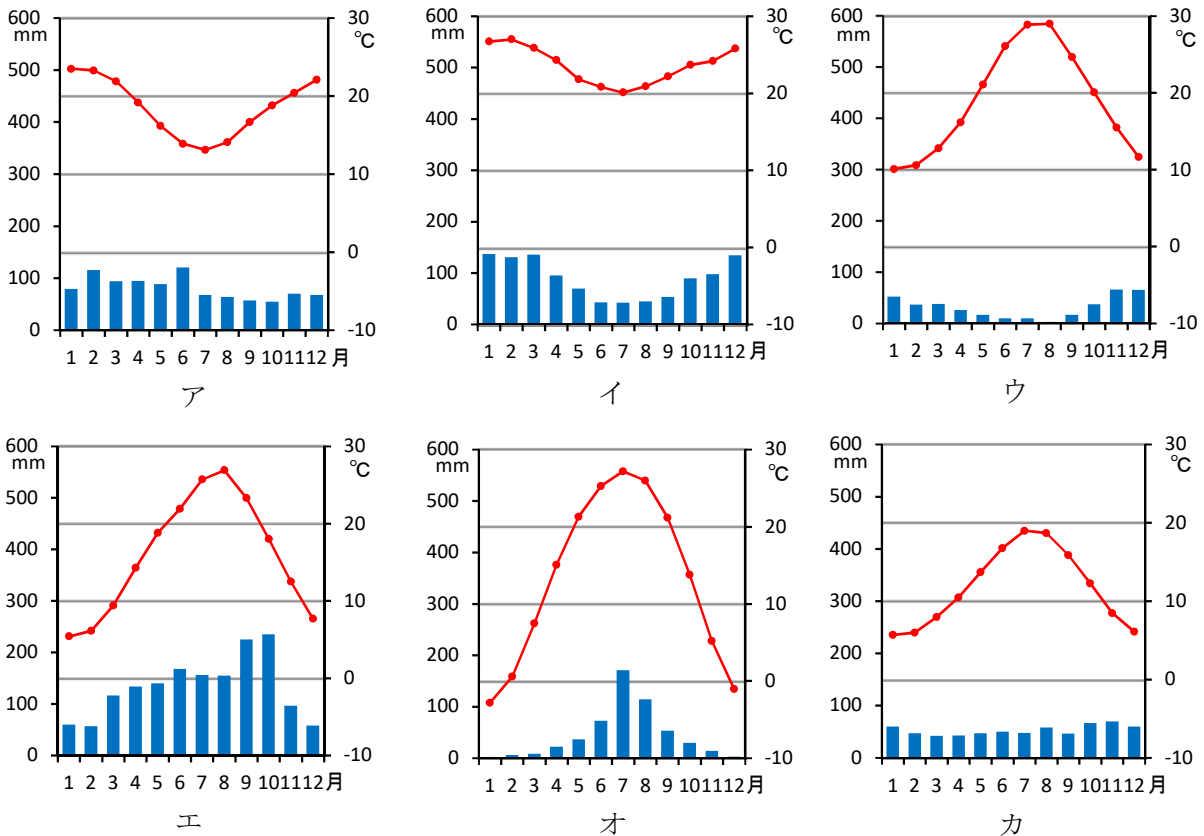
問 地図①中のXと同じ緯線を，地図②中のA，Bから，赤道を，地図④中のC，Dからそれぞれ選び，その組み合わせとして正しいものを，表中のア～エから選びなさい。 24

	ア	イ	ウ	エ
Xと同じ緯線	A	A	B	B
赤道	C	D	C	D

問 2021年の東京オリンピックにおける陸上競技男子100mの決勝は，日本時間の21時50分に行われました。このとき，西経75度を標準時子午線とするアメリカ合衆国のニューヨークは何時何分になりますか。正しいものを，次のア～カから選びなさい。 25

ア. 1時50分 イ. 2時50分 ウ. 7時50分 エ. 11時50分 オ. 16時50分 カ. 17時50分

問 次の雨温図ア～カは，年表および地図に記載のある，シドニー，アテネ，ペキン，ロンドン，リオデジャネイロ，東京のいずれかのものです。ペキンに該当するものを，ア～カから選びなさい。 26



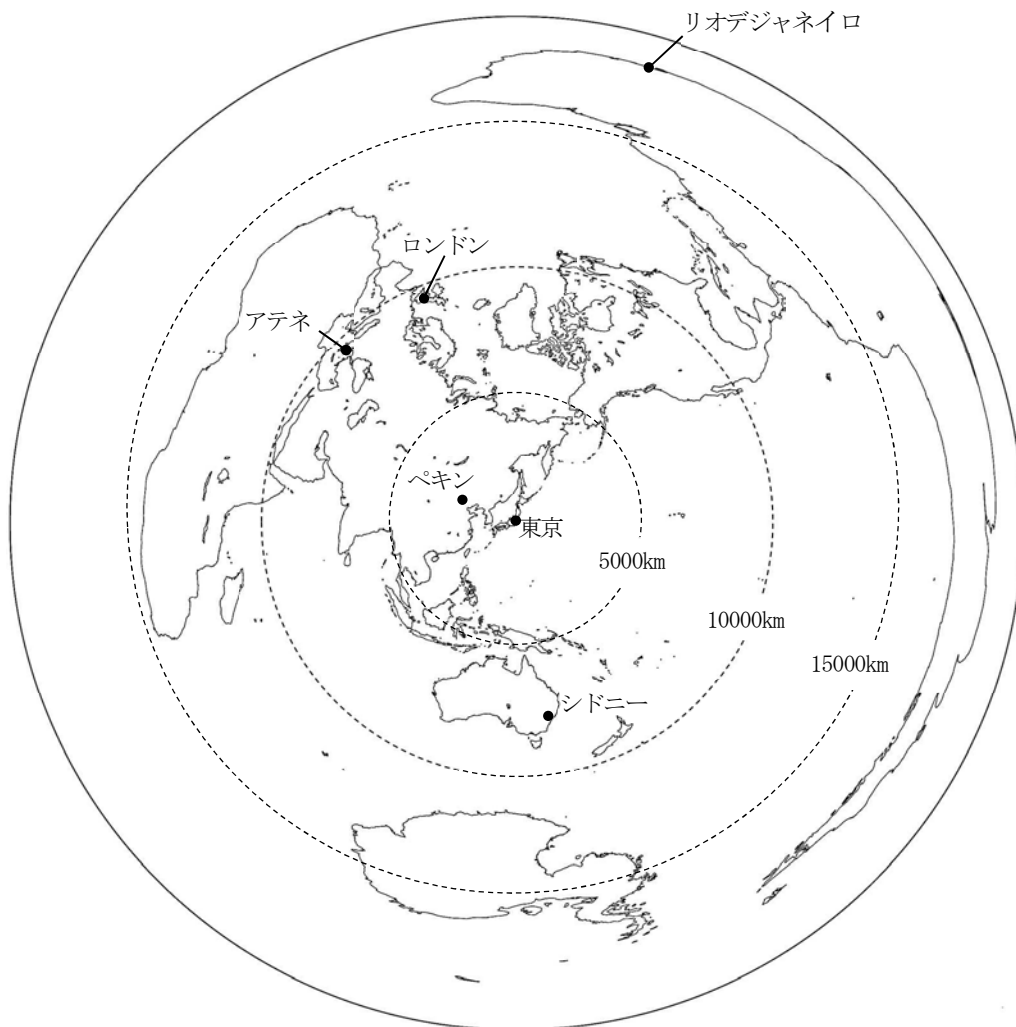
問 地図①中のYの国で主に信仰されているキリスト教の宗派を，国民の過半数が信仰する国を，次のア～エから選びなさい。 27

ア. イギリス イ. ギリシャ ウ. 中国 エ. ブラジル

問 地図③中のZの地域は、オーストラリアの主要な輸出品目となっている、ある鉱産資源の一大産出地です。この鉱産資源の種類と、地図④中に示した南アメリカ大陸におけるこの鉱産資源の産出地を示す記号の組み合わせとして正しいものを、表中のア～カから選びなさい。 28

	ア	イ	ウ	エ	オ	カ
鉱産資源の種類	原油	原油	銅鉱石	銅鉱石	鉄鉱石	鉄鉱石
南アメリカ大陸における産出地	■	◎	◎	▲	▲	■

問 次の地図は、東京を中心に描かれた、中心からの距離と方位が正しい地図です。この地図から読み取れる内容として正しいものを、下のア～エから選びなさい。 29



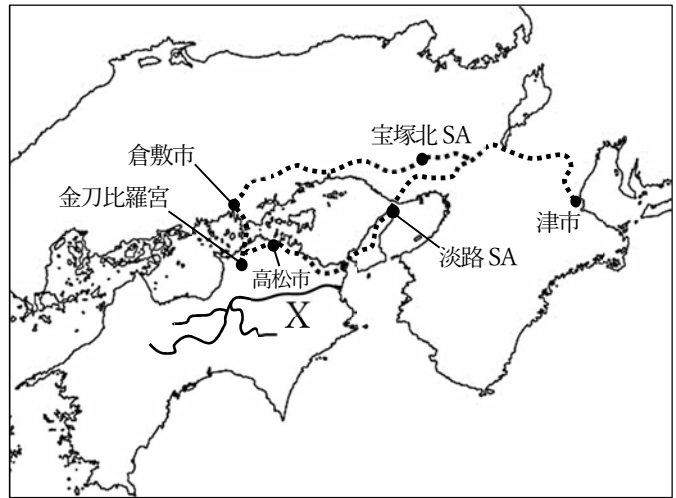
- ア. 東京から見て東の方角に直進すると、最初にぶつかるのは北アメリカ大陸である。
- イ. 東京から見てアテネは北西の方角に位置し、アテネから見てロンドンが北東の方角に位置する。
- ウ. 東京からリオデジャネイロまで最短ルートを移動すると、大西洋を通過する。
- エ. 東京からシドニーまでの距離は、東京からペキンまでの距離の5倍以上ある。

【6】津市に住むヒロトさんは、春休みに家族で香川県へ1泊2日の旅行に行きました。旅行の行程表である資料1と、地図上にルートを示した資料2を見て、あとの問いに答えなさい。

〈資料1〉

1日目	2日目
7:00 自宅を出発	7:00 ホテルにて朝食
↓	8:00 出発
↓	↓ ③
10:00 淡路サービスエリアにて休憩	9:30 金刀比羅宮到着 参拝・周辺散策
↓	11:30 参道にて昼食
12:30 ①香川県高松市到着 ②讃岐うどん店にて昼食	↓
13:30 市内観光へ リッリン 栗林公園・屋島など	14:00 ④倉敷美観地区到着 周辺散策
↓	↓
18:00 高松市内ホテル到着 ホテルにて夕食	18:00 宝塚北サービスエリアにて夕食
	↓
	21:00 自宅に到着

〈資料2〉



問 資料1中の下線部①の県は降水量が少ないため、昔からため池をつくったり、資料2中にXで示した河川から用水を引き入れたりすることで、水を確保してきました。Xの河川名と、その河口が位置する県名の組み合わせとして正しいものを、次のア～カから選びなさい。 30

- ア. 吉野川－高知県 イ. 吉野川－徳島県 ウ. 吉野川－愛媛県
エ. 四万十川－高知県 オ. 四万十川－徳島県 カ. 四万十川－愛媛県

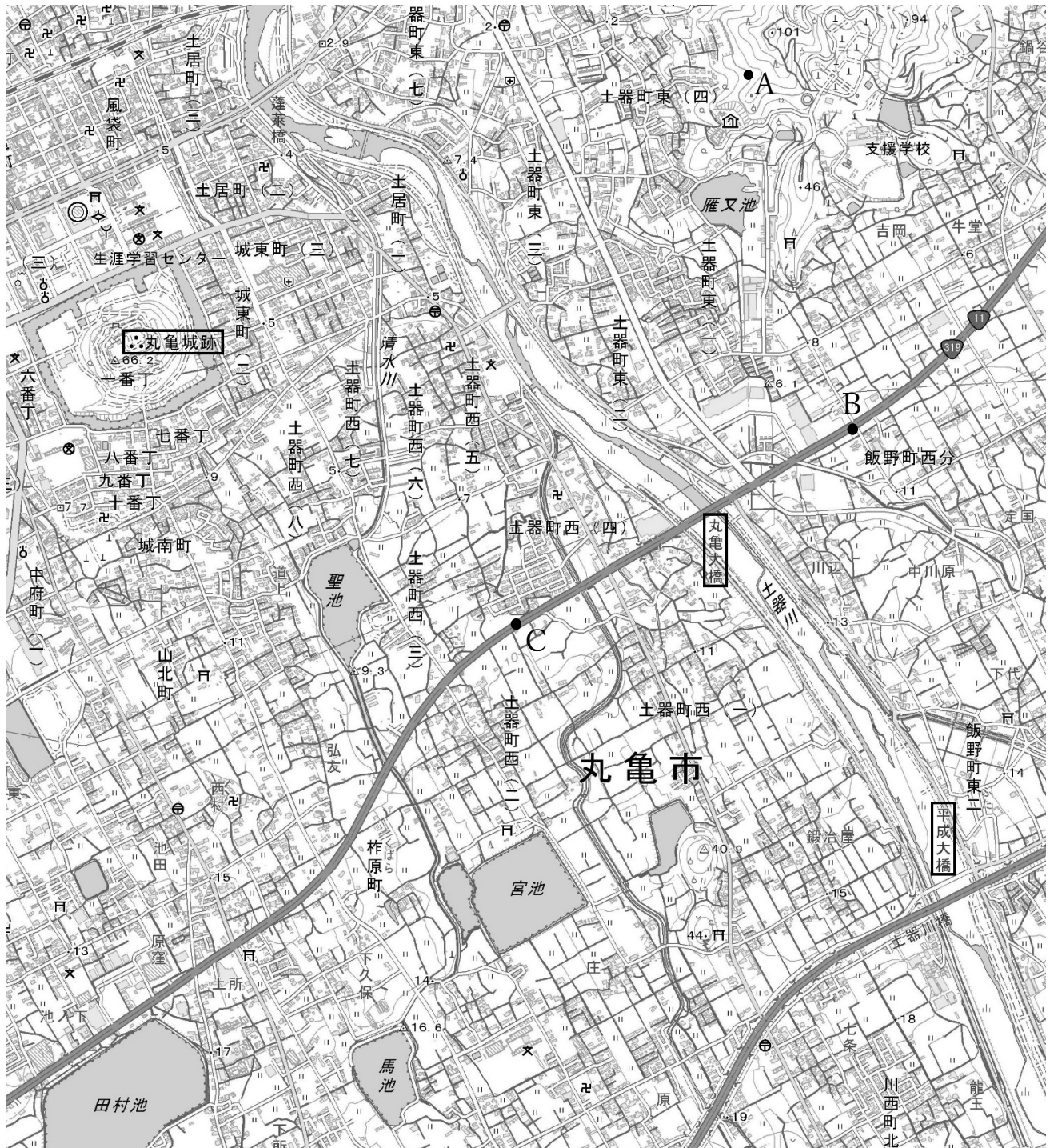
問 資料1中の下線部②について、香川県の気候は、小麦栽培に適していることから、小麦を原料とするうどんの食文化が発達しましたが、現在ではその多くを輸入に頼っています。次の表は日本における主な食品の輸入相手国と、輸入額に占める割合を第3位まで示したものであり、ア～エの品目は、小麦、大豆、コーヒー豆、牛肉のいずれかです。小麦に該当するものを、表中のア～エから選びなさい。 31

	ア	イ	ウ	エ
1位	オーストラリア (47.6%)	アメリカ (45.9%)	アメリカ (70.6%)	ブラジル (34.5%)
2位	アメリカ (40.5%)	カナダ (34.8%)	ブラジル (14.0%)	コロンビア (16.7%)
3位	カナダ (5.5%)	オーストラリア (17.7%)	カナダ (13.7%)	ベトナム (12.4%)

(「データブックオブザワールド2021」より)

問 資料1中の③について、次の地図は、ホテルを出発して金刀比羅宮に向かう途中で通過した、丸亀城跡周辺の2万5000分の1の地形図を拡大したものです。この地形図に関する内容として**誤っているもの**を、下のア～エから選びなさい。

32



- ア. 土器川にかかる丸亀大橋は、平成大橋よりも上流側にある。
- イ. 丸亀城跡の北側には市役所や税務署、消防署などがある。
- ウ. 地点Aは、丸亀城跡にある三角点よりも標高が低い。
- エ. 地点Bから地点Cまで元の地形図上で5cmであるとする、実際の距離は1.25kmとなる。

問 資料1中の下線部④の市は、瀬戸内工業地域の一角を占めています。次の表は、京浜工業地帯、中京工業地帯、阪神工業地帯、瀬戸内工業地域における製造品出荷額の分野ごとの割合を示したものです。A～Cと京浜工業地帯、阪神工業地帯、瀬戸内工業地域の組み合わせとして正しいものを、下のア～エから選びなさい。

33

(単位 %)

	食品	繊維	化学	金属	電気機械	輸送機器	その他機械
中京工業地帯	4.7	0.7	11.5	9.5	9.6	49.9	9.1
A	13.3	0.5	20.6	10.6	11.9	18.8	12.7
B	11.1	1.3	20.6	20.9	12.0	9.9	16.0
C	7.8	2.1	27.9	18.1	5.0	19.9	10.2

(「2023年版 地理統計Plus」より)

- ア. A－京浜工業地帯 B－阪神工業地帯 C－瀬戸内工業地域
 イ. A－京浜工業地帯 B－瀬戸内工業地域 C－阪神工業地帯
 ウ. A－阪神工業地帯 B－京浜工業地帯 C－瀬戸内工業地域
 エ. A－阪神工業地帯 B－瀬戸内工業地域 C－京浜工業地帯

問 次の表は、香川県以外で瀬戸内海に面する、愛媛県、兵庫県、岡山県、広島県、山口県について人口および漁業産出額、農業産出額のデータをまとめたものです。岡山県に該当するものを、表中のア～エから選びなさい。

34

(金額の単位 億円)

	ア	イ	ウ	エ	山口県
人口	134万人	189万人	547万人	280万人	136万人
県庁所在地の人口	51万人	71万人	153万人	120万人	19万人
漁業産出額	887	68	523	238	150
うち養殖業	684	47	244	177	20
農業産出額	1233	1401	1544	1187	654
うち果実	530	245	32	165	43

(「データで見る県勢2021」より)

問 この旅行で、ヒロトさんは本州と淡路島、四国を結ぶ3つの大きな橋(本州四国連絡橋)を通過しました。これについて述べた文A、Bの正誤の組み合わせとして正しいものを、下のア～エから選びなさい。

35

- A. この旅行でヒロトさんは、明石海峡大橋、大鳴門橋、瀬戸大橋の順に本州四国連絡橋を渡った。
 B. 本州四国連絡橋ができたことで、瀬戸内海を結ぶ交通は活性化し、フェリーの便数も増えた。

- ア. A－正 B－正 イ. A－正 B－誤 ウ. A－誤 B－正 エ. A－誤 B－誤

(社会の試験問題は以上です。)